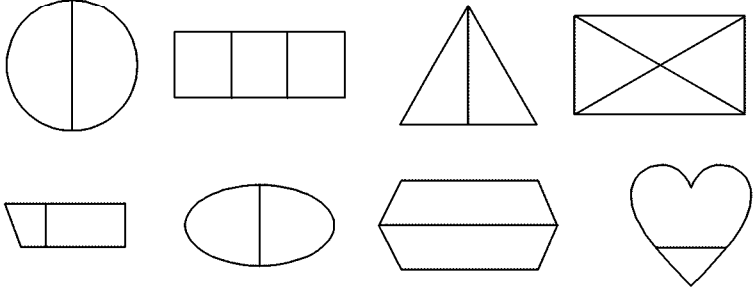


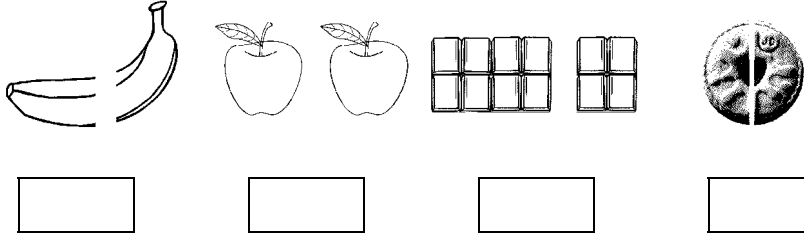
Q.1. Tick (✓) one half of the shapes that are divided into two equal parts. (5)

جو اشکال دو برابر حصوں میں تقسیم کی گئی ہیں ان پر (✓) لگائیں۔



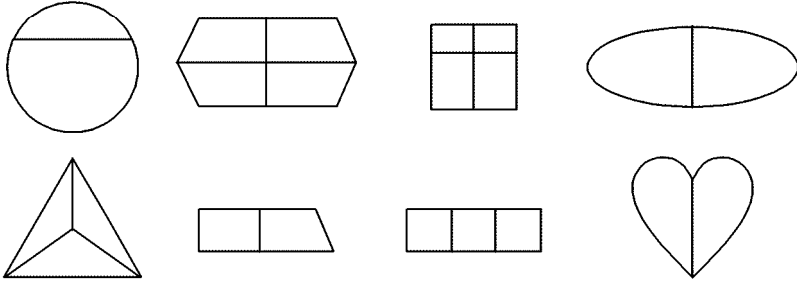
Q.2. Tick (✓) the following objects that are divided into equal parts. (5)

اُن چیزوں پر (✓) لگائیں جو دو برابر حصوں میں تقسیم کی گئی ہیں۔



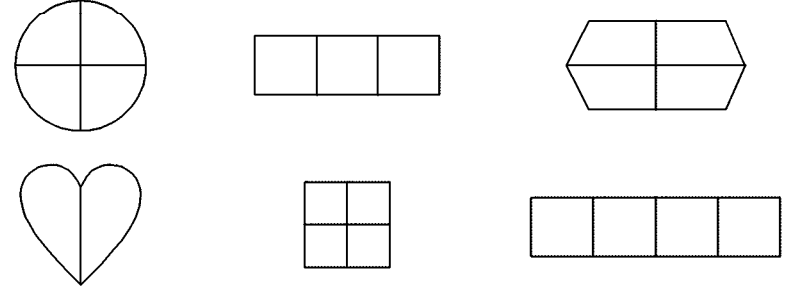
Q.3. Tick (✓) the shapes that are divided into equal parts. (5)

ان تصاویر پر (✓) لگائیں جو دو برابر حصوں میں تقسیم ہیں۔



Q.4. Tick (✓) one quarter of the shapes that are divided into four equal parts. (5)

ان اشکال پر (✓) لگائیں جو چار برابر حصوں میں تقسیم کی گئی ہیں۔



Q.5. How many quarters make one whole? (5)

کتے دن کو اربڑل کر "1" بناتے ہیں؟

---



---



---



---



---



---



---



---



---



---